

Elektrosztatika

1. Testek elektromos állapota
2. Elektromos alapjelenségek
3. Elektromosan töltött testek közötti kölcsönhatás
4. Az elektrosztatikus mezőt jellemző mennyiségek
 - a) elektromos térerősség
 - b) Fluxus fogalma
 - c) Feszültség és potenciál
5. Az elektrosztatikus mező tulajdonságai
6. Kondenzátor és kapacitás
 - Kondenzátor fogalma
 - Kapacitás
 - R sugarú vezetőgömb kapacitásának meghatározása
 - Síkkondenzátor kapacitása
 - Kondenzátorok kapcsolása
7. Az elektrosztatikus mező energiája és energiasűrűsége
8. Vezetők elektrosztatikus mezőben
 - A megosztás jelensége
 - A megosztás következményei
9. Többeltöltés a vezető felületén
10. Elektromos térerősség a vezető környezetében
11. Szigetelők elektrosztatikus mezőben

Testek elektromos állapota

A műszálas ruha levetésekor gyakran pattogásokat hallunk, sötétben még kis szikrákat is láthatunk. Az egymáshoz súrlódó műszálas és pamut ruhadarabok összetapadnak, vonzzák egymást.

Ha egy műanyag rudat szőrmével vagy papírsebkendővel megdörzsölünk, akkor a közelében lévő apró, könnyű tárgyak elmozdulnak. Dörzsöléskor a műanyag rúd **elektromos állapotba** kerül. Hasonló jelenséget tapasztalunk, ha üvegrudat bőrrel dörzsölünk meg.



Bármilyen anyagú test elektromos állapotba hozható, ha a sajátjától különböző anyagú testtel megdörzsöljük.

A testek elektromos állapotát egy közvetlenül nem észlelhető anyag, az **elektromos töltés** okozza.

A töltések pozitív és negatív elnevezése Benjamin Franklintól származik, aki tévesen feltételezte, hogy csak egyfajta mozgásra képes töltésfajta létezik, és ennek többletét nevezte pozitívnak, a hiányát negatívnak. Az elnevezést a mai napig megtartottuk, annak ellenére, hogy választása szerencsétlenül sikerült, hiszen a mozgásra képes elektronokról kiderült, hogy a töltésük negatív.

Kétféle elektromos állapotot különböztetünk meg:

Negatív elektromos állapot

- Negatív elektromos állapotban a negatív töltéstöbblettel rendelkező test van.
- Ilyen például a szőrmével megdörzsölt ebonitrúd, vagy a selyemmel megdörzsölt műanyagrúd.

Pozitív elektromos állapot

- Az elektronhiánnyal rendelkező test elektromos állapota.
- Ilyen például a bőrrel megdörzsölt üvegrúd.

A semleges test mind a kétféle töltést egyenlő mértékben tartalmazza.

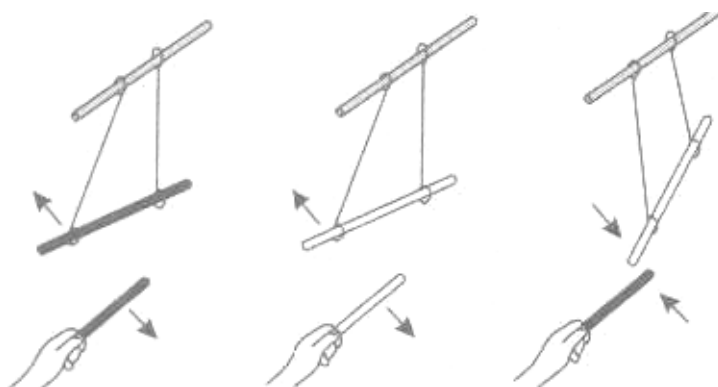
Elektromos alapjelenségek

Az **azonos töltéssel** rendelkező testek **taszítják egymást**.

Ez szemléltethető úgy, hogy két műanyag rudat selyemmel vagy két üvegrudat bőrrel dörzsölünk meg, az egyiket felfüggesztjük, és a másikat közelítjük hozzá.

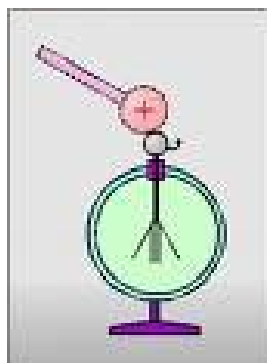
Ellentétes töltéssel rendelkező testek **vonzzák egymást**.

Ez a hatás mutatható be a selyemmel megdörzsölt műanyag rúd és a bőrrel megdörzsölt üvegrúd között.



Az **elektromosan töltött test** a **semleges testet mindig vonzza**. Amikor a test átvette a töltéseket, a töltött test eltaszítja magától. Például: a megdörzsölt műanyag rúd magához vonzza az alufólia darabkákat, majd eltaszítja magától.

Az elektromos állapot kimutatására szolgáló eszköz az **elektroszkóp**.

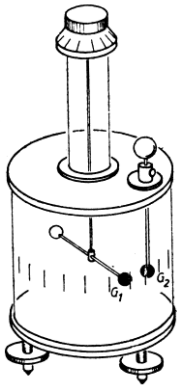


Az elektroszkóp gömbje, valamint az elektroszkópon lévő két szár, vezető anyagból készül. Ha az elektroszkóp gömbjére töltést viszünk, akkor ugyanolyan töltésűek lesznek a szárak is. Ezért az azonos töltés miatt taszítják egymást.

Elektromosan töltött testek közötti kölcsönhatás, Coulomb törvénye

Az elektromosan töltött testek közötti kölcsönhatást **Coulomb** vizsgálta (1785).

Eszköze a Coulomb-mérleg



- Légüres térben, vezetősálon egy fémgolyót helyezett el. Ezt a golyót nem lehetett elmozdítani.
 - A torziósszára függesztett szigetelőrúd egyik végén ugyanilyen méretű fémgolyó volt.
 - Az álló golyónak bizonyos töltésmennyiséget adott, majd a torziósszál elfordításával a torziósszálon lévő golyót az álló golyóhoz érintette.
 - A két golyót r távolságra távolította egymástól. Ekkor mindkét golyón azonos töltésmennyiség volt.
 - A torziósszál a kölcsönhatás következtében elfordult.
- Az elcsavarodás mértékéből a töltött testek közötti erőhatás meghatározható.
 - Ha a fix golyót megérintette (leföldelte), majd a mérést megismételte, most már feleakkora töltéssel, ismét meghatározhatta az erőt.
 - Sok mérést elvégezve megállapította, hogy

Két elektromosan töltött test között fellépő erő egyenesen arányos a két töltésmennyiség szorzatával, és fordítottan arányos a köztük lévő távolság négyzetével.

Az arányossági tényező megállapításához definiálni kellett az **egységnyi töltésmennyiséget**.

Ennek meghatározása a történelem során sokat változott.

Ma egységnyinek nevezzük azt a töltésmennyiséget, amely ugyanakkora töltésmennyiségre vákuumban egy méter távolságról $9 \cdot 10^9$ N erővel hat.

$$\frac{9 \cdot 10^9 \text{ N} \cdot \text{m}^2}{1\text{C} \cdot 1\text{C}} = k = 9 \cdot 10^9 \frac{\text{Nm}^2}{\text{C}^2}$$

$$F_e = k \cdot \frac{Q_1 \cdot Q_2}{r^2}$$

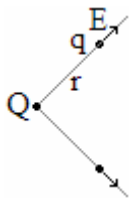
Az elektrosztatikus mezőt jellemző mennyiségek

a) Elektromos térerősség

Az elektromosan töltött testek maguk körül létrehozzák az anyagnak egy sajátos formáját, az **elektromos mezőt**. A mező rendelkezik energiával, tehetetlenséggel.

Az elektromos mező jellemzésére szolgáló egyik fizikai mennyiség az **elektromos térerősség**. Jele: E

Gondolatkísérlet



- Ha egy pontszerű Q töltés hozza létre az elektromos mezőt, akkor ezt a mezőt pontról pontra egy q próbatöltéssel (egységnyi pozitív töltés) tapogathatjuk le.
- Ha a mezőt létrehozó Q töltéstől r távolságra elhelyezzük a próbatöltést, akkor arra erő hat.
- Ha ugyanabba a pontba kétszer háromszor nagyobb próbatöltést helyezünk, akkor kétszer háromszor nagyobb lesz az erőhatás mértéke is.
- Tehát a mező adott pontjában a próbatöltésre ható erő és a próbatöltés nagysága között egyenes arány van. A kettő hányados a mező adott pontját jellemzi, amelyet **elektromos térerősségnek** nevezünk.

Az elektromos térerősség vektormennyiség.

Nagysága a próbatöltésre ható erő és a próbatöltés nagyságának hányadosa.

Íránya a pozitív próbatöltésre ható erő irányával egyezik meg.

$$E = \frac{F}{q}$$

$$[E] = \frac{N}{C}$$

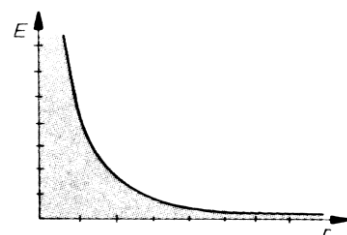
Pontszerűtöltéselektromostérerőssége

$$E = F/q$$

$$k = \frac{1}{4\pi \cdot \epsilon_0}$$

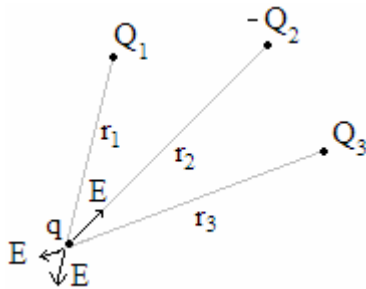
$$F = k \cdot \frac{Q_1 \cdot Q_2}{r^2}$$

$$F = \frac{1}{4\pi \cdot \epsilon_0} \cdot \frac{Q_1 \cdot Q_2}{r^2}$$



A pontszerű töltés elektromos térerőssége egyenesen arányos a mezőt létrehozó töltés nagyságával, és fordítottan arányos a töltéstől mért távolság négyzetével. Az arányossági tényező: k .

Szuperpozícióelvelektronstatikában

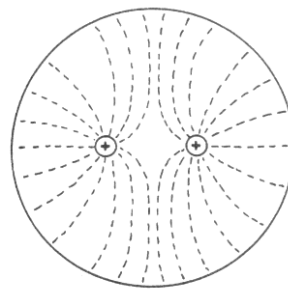
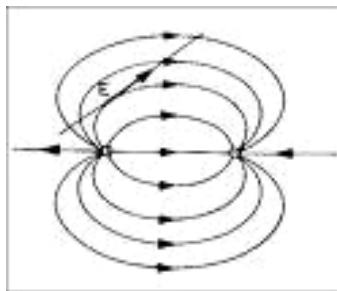


Ha az elektromos mezőt több töltés hozza létre, akkor bármely pontban az elektromos térerősség megegyezik az egyes töltésekből származó térerősségek vektori eredőjével.

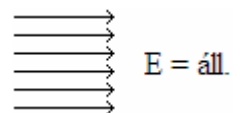
Elektromosmezőszemléltetése

Az elektrosztatikus mezőt térerősségvonalak segítségével lehet szemléltetni.

A **térerősségvonalak** olyan képzeletbeli és térbeli görbék, amelyeknek bármely pontjába húzott érintő iránya az adott pont térerősségének irányába mutat, és olyan sűrűn rajzoljuk ezeket a görbéket, hogy egységnyi felületre merőlegesen annyi haladjon keresztül, amennyi az adott helyen a térerősség nagysága.



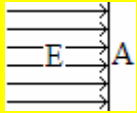
A **homogén elektromos mező** minden pontjában a térerősség nagysága és iránya megegyezik. Az ilyen mezőt egyenlő hosszúságú és sűrűségű térerősségvonalakkal szemléltetjük.



b) Fluxus fogalma

Az elektromos mező jellemzésére szolgáló fizikai mennyiség az **elektromos fluxus**. Jele: Ψ

Az elektromos fluxus megegyezik a felület és a rá merőleges elektromos térerősség szorzatával.



$$\Psi = E \cdot A$$

$$[\Psi] = \frac{Nm^2}{C}$$

Gausztétel(Maxwell.törvénye)

- Azt vizsgáljuk, hogy egy pontszerű töltéstől r távolságra mekkora az elektromos térerősség.
- Ezt kétféleképpen is felírhatjuk. Ez a két felírási mód egymással ekvivalens, ezért egyenlővé tehető.

$$E = k \cdot \frac{Q}{r^2} = \frac{1}{4 \cdot \pi \cdot \epsilon_0} \cdot \frac{Q}{r^2}$$

$$E = \frac{\Psi}{A_{gömb}} = \frac{\Psi}{4 \cdot \pi \cdot r^2}$$

Mivel ekvivalensek, egyenlők egymással, ezért:

$$\frac{1}{4 \cdot \pi \cdot \epsilon_0} \cdot \frac{Q}{r^2} = \frac{\Psi}{4 \cdot \pi \cdot r^2}$$

$$\Psi_{zártfelület} = \frac{1}{\epsilon_0} \cdot Q = 4 \cdot \pi \cdot k \cdot Q$$

$$\Psi_{zártfelület} = N_e \rightarrow \text{Elektromos forráserősség}$$

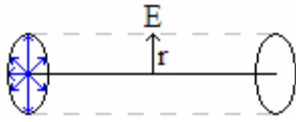
Gauss levezette, hogy a zárt felületnek a fluxusa csak attól függ, hogy mennyi a felületben lévő töltések algebrai összege. Zárt felület fluxusát másképpen forráserősségnek nevezzük. Jele: N_e

Gausztétel,Maxwell.Törvénye:

Zárt felület fluxusa, azaz forráserőssége megegyezik a felületben lévő töltések algebrai összegének $\frac{1}{\epsilon_0}$ szorosával, vagy $4 \cdot \pi \cdot k$ szorosával.

Két feladat Gauss-tételének alkalmazására

1. Végtelen hosszú egyenes vezetón az egységnyi hosszra jutó töltéssűrűség σ . Mennyi a vezetőtől r távolságra az elektromos térerősség?



$$\psi_{\text{zárt felület}} = \frac{1}{\varepsilon_0} \cdot Q$$

$$E \cdot A = \frac{1}{\varepsilon_0} \cdot Q$$

$$E \cdot 2 \cdot \pi \cdot r \cdot l = \frac{1}{\varepsilon_0} \cdot Q$$

$$E \cdot 2 \cdot \pi \cdot r = \frac{1}{\varepsilon_0} \cdot \frac{Q}{l}$$

$$E = \frac{\sigma}{2 \cdot r \cdot \pi \cdot \varepsilon_0}$$

2. Mekkora egy A felületű vezető lemeztől r távolságra az elektromos térerősség, ha a felületi töltéssűrűség σ ?

$$\psi = \frac{1}{\varepsilon_0} \cdot Q$$

$$E \cdot 2A = \frac{1}{\varepsilon_0} \cdot Q$$

$$E = \frac{1}{\varepsilon_0} \cdot \frac{Q}{2A}$$

$$E = \frac{1}{\varepsilon_0} \cdot \frac{\sigma}{2}$$

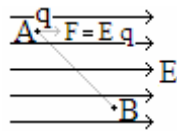
$$E = \frac{\sigma}{2\varepsilon_0}$$

c) Feszültség és potenciál

Feszültség

- Homogén elektrosztatikus mezőbe egy q próbatöltést helyezünk.
- Miközben a mező az A-ból a B pontba juttatja a próbatöltést, munkát végez.

- Ha a próbatöltés nagyságát kétszeresére, háromszorosára növeljük, akkor a mező által végzett munka is kétszeresére, háromszorosára nő.
- Vagyis a mező által végzett munka és a próbatöltés között **egyenes arányosság** van.



$$W = F \cdot s \cdot \cos \alpha$$

$$W = E \cdot q \cdot s \cdot \cos \alpha$$

$$\frac{W}{q} = \text{áll.} = U_{AB}$$

Az elektromos mező által a mező két pontja között végzett munka és a két pont között mozgó töltés hányadosa a mező két pontjára jellemző állandót határoz meg. Ezt az állandót az A pontnak a B-hez viszonyított feszültségének nevezzük.

A feszültség jele: U

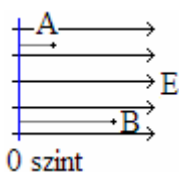
$$U = \frac{W}{q}$$

$$[U] = \frac{[W]}{[q]} = \frac{J}{C} = V$$

$$U = \frac{W}{q} = \frac{E \cdot q \cdot s \cdot \cos 0^\circ}{q} = E \cdot s$$

A fenti összefüggés csak akkor igaz, ha az elektromos mező a térerősség vonalak irányába mozdítja el a próbatöltést. *Ilyenkor a térerősség vonalak irányába felvett két pont között a feszültség egyenesen arányos a két pont távolságával az arányossági tényező az elektromos térerősség.*

Potenciál

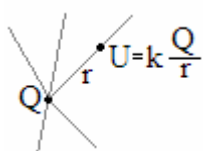


Ha az elektrosztatikus mezőben tetszőlegesen kijelölünk egy nulla szintet és ehhez képest megmérjük a mező bármely pontjának feszültségét, a mező adott pontjának potenciálját kapjuk.

Tehát a nulla szinthez képest mért feszültséget potenciálnak nevezzük.

Két pont potenciáljának különbsége megegyezik a két pont közötti feszültséggel. $U_{AB} = U_B - U_A$

Pontszerűtöltéspotenciálja:



A pontszerű töltéstől r távolságra a potenciál $k \cdot \frac{Q}{r}$

Az elektrosztatikus mező tulajdonságai

1. Azelektrosztatikusmezőforrásosmező.

Az elektrosztatikus mező forrásai az elektromos töltések. A térerősség vonalak a töltésből indulnak ki és a töltéseken végződnek.

2. Azelektrosztatikusmezőkonzervatívmező.


A mező által két pont között végzett munka csak a két pont helyzetétől függ.

Bizonyítás:

Mekkora munkát végez az elektrosztatikus mező, amíg egy próbatöltést az A pontból a B pontba juttat?

Nézzük ezt meg két különböző úton! Az egyik az ACB út, a másik az AB út.

$$W_{AC} = E \cdot q \cdot d \cdot \cos 0^\circ = Eqd \qquad W_{AB} = E \cdot q \cdot s_1 \cdot \cos \alpha = Eqd$$
$$W_{CB} = E \cdot q \cdot s_1 \cdot \cos 90^\circ = 0$$



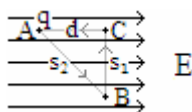
Látható, hogy a munkavégzés nagysága nem függ az útpálya hosszától.

3. Azelektrosztatikusmezőörvénymentesmező.

Az elektrosztatikus mezőben egy zárt görbe mentén végzett munka összege nulla.

Bizonyítás:

$$W_{AB} = E \cdot q \cdot s_2 \cdot \cos \alpha = Eqd$$
$$W_{BC} = E \cdot q \cdot s_1 \cdot \cos 90^\circ = 0 \qquad \Sigma W = 0$$
$$W_{CA} = E \cdot q \cdot d \cdot \cos 180^\circ = -Eqd$$



Kondenzátor és kapacitás

a) Kondenzátor fogalma

- A kondenzátort másképpen **sűrítő**nek nevezzük. Két vezetőlemezből áll, melyeknek ellentétes a töltésük.
- Ez technikailag úgy is megvalósítható, hogy az egyik lemezt pozitív töltésre töltjük, a másikat pedig leföldeljük. A kondenzátor vezető lemezeit **fegyverzet**nek is nevezzük.
- A sűrítő elnevezés abból adódik, hogy a kondenzátor a fegyverzetek közé sűríti az elektromos mezőt, és így az elektromos térerősség vonalakat is.

b) Kapacitás

- Ha a kondenzátor fegyverzetén a töltésmennyiséget kétszeresére, háromszorosára növeljük, a térerősség is kétszeresére, háromszorosára fog nőni.
- Ebből viszont az is következik, hogy a fegyverzetek között a feszültség kétszeresére, háromszorosára nő. Tehát a fegyverzeteken lévő töltésmennyiség és a fegyverzetek között kialakuló feszültség között egyenes arány van. $Q \sim U$

$$Q/U = \text{állandó} = C$$

A kondenzátor fegyverzetein lévő töltésmennyiség és a fegyverzetek közötti feszültség hányadosa állandót határoz meg. Ez az állandó a kondenzátor töltéstároló képességére jellemző kapacitás. Jele: C

Egy farad a kondenzátor kapacitása, ha 1V feszültség mellett 1C töltésmennyiséget képes tárolni.

Akondenzátorkapacitásafügg:

- a fegyverzetek nagyságától,
- azok távolságától
- és a köztük lévő szigetelő anyagtól.

Akondenzátorkapacitásanemfügg a töltésmennyiségtől és a feszültségtől.

c) R sugarú vezetögömb kapacitásának meghatározása

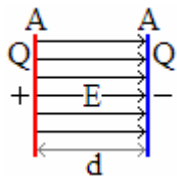
$$C = \frac{Q}{U} = \frac{Q}{k \cdot \frac{Q}{R}} = \frac{R}{k}$$

$$C = \frac{R}{k}$$

$$C = R/k$$

Vezetögömb kapacitása csak a gömb sugarától függ.

d) Síkkondenzátor kapacitása



$C = ?$

$$C = \frac{Q}{U} = \frac{Q}{E \cdot d}$$

Az elektromos térerősséget Gauss-tétel segítségével így határoztuk meg:

$$\Psi_{zárt} = \frac{1}{\epsilon_0} \cdot Q$$

$$E \cdot A = \frac{1}{\epsilon_0} \cdot Q$$

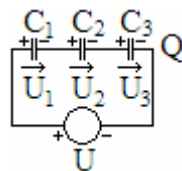
és ebből: $E = \frac{Q}{\epsilon_0 \cdot A}$

$$C = \frac{Q}{\frac{Q}{\epsilon_0 \cdot A} \cdot d} = \frac{\epsilon_0 \cdot A}{d}$$

e) Kondenzátorok kapcsolása

Soroskapcsolás:

Soros kapcsolásnál elektromos megosztás miatt a fegyverzeteken megegyezik a töltésmennyiség.



$$C_e = \frac{Q}{U}$$

$$U = U_1 + U_2 + U_3$$

$$U = \frac{Q}{C_1} + \frac{Q}{C_2} + \frac{Q}{C_3}$$

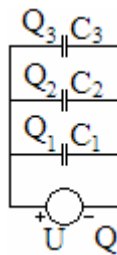
$$\frac{U}{Q} = \frac{1}{C_1} + \frac{1}{C_2} + \frac{1}{C_3}$$

$$\frac{1}{C_e} = \frac{1}{C_1} + \frac{1}{C_2} + \frac{1}{C_3}$$

A kondenzátorok soros kapcsolásánál az eredő kapacitás reciproka megegyezik a sorba kapcsolt kapacitások reciprokának összegével.

Párhuzamoskapcsolás:

A kondenzátorok párhuzamos kapcsolásánál valamennyi kondenzátoron azonos a feszültség.



$$Q = Q_1 + Q_2 + Q_3$$

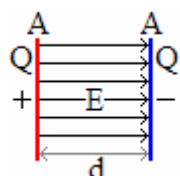
$$C_e \cdot U = C_1 \cdot U + C_2 \cdot U + C_3 \cdot U$$

$$C_e = C_1 + C_2 + C_3$$

Párhuzamos kapcsolásnál az eredő kapacitás megegyezik az egyes kapacitások összegével.

Az elektrosztatikus mező energiája és energiasűrűsége

Ha elektrosztatikus mezőbe töltést helyezünk, akkor a mező a töltést elmozdítja, azaz a mező munkát végez. Mivel a mező képes munkavégzésre, ezért energiával is rendelkezik.



Vizsgáljuk meg hogy mennyi munkát kell végeznünk ahhoz, hogy egy pozitív Q töltéssel ellátott A felületű lemeztől d távolságra elmozdítsunk egy hasonló méretű $-Q$ töltésű lemezt.

$$W = F \cdot d \cdot \cos 0^\circ = F \cdot d = EQd$$

Az elektromos térerősség egy Q töltésű lemez környezetében Gauss-tétel felhasználásával határozható meg.

$$E \cdot 2A = \frac{1}{\epsilon_0} \cdot Q$$

$$E = \frac{1}{2} \cdot \frac{Q}{\epsilon_0 \cdot A}$$

A fenti képletbe, ha behelyettesítjük a térerősségre kapott összefüggést, akkor a végzett munka a következőképpen fejezhető ki:

$$W = \frac{1}{2} \frac{Q}{\epsilon_0 \cdot A} \cdot Q \cdot d = \frac{1}{2} \cdot Q^2 \cdot \frac{d}{\epsilon_0 \cdot A} = \frac{1}{2} \cdot \frac{Q}{C}$$

$$W = \frac{1}{2} \cdot \frac{Q^2}{C} = \frac{1}{2} \cdot \frac{Q^2}{Q/U} = \frac{1}{2} \cdot U \cdot Q$$

$$W = \frac{1}{2} \cdot U \cdot Q = \frac{1}{2} \cdot U \cdot C \cdot U = \frac{1}{2} \cdot C \cdot U^2$$

A kondenzátor fegyverzetei között a homogén elektrosztatikus mezőben tárolt energiát kiszámíthatjuk: $W = \frac{1}{2} \cdot \frac{Q^2}{C} = \frac{1}{2} \cdot U \cdot Q = \frac{1}{2} \cdot C \cdot U^2$ összefüggések felhasználásával.

Elektrosztatikusmezőenergiájánakmeghatározásaáltalános esetben:

Elektrosztatikus mező nemcsak kondenzátor fegyverzetei között alakulhat ki. Az előző összefüggés felhasználásával általánosan is kifejezhetjük a mező energiáját, energiasűrűségét.

$$W = \frac{1}{2} \cdot C \cdot U^2 = \frac{1}{2} \cdot \frac{\epsilon_0 \cdot A}{d} \cdot E^2 \cdot d^2 = \frac{1}{2} \cdot \epsilon_0 \cdot E^2 \cdot A \cdot d = \frac{1}{2} \cdot \epsilon_0 \cdot E^2 \cdot V$$

$$W = \frac{1}{2} \cdot \epsilon_0 \cdot E^2 \cdot V$$

Az elektrosztatikus mező energiája egyenesen arányos az elektromos térerősség négyzetének és a mező térfogatának szorzatával. Az arányossági tényező: $\frac{1}{2} \cdot \epsilon_0$

vagy $\frac{1}{2} \cdot \frac{1}{4 \cdot \pi \cdot k}$

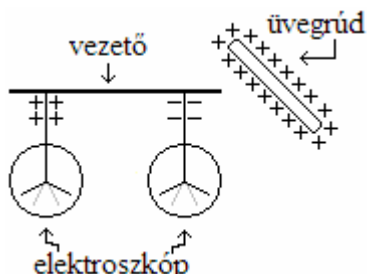
Elektrosztatikusmezőenergiasűrűsége:

$$\delta_E = \frac{W}{V} = \frac{1}{2} \cdot \epsilon_0 \cdot E^2 = \frac{1}{2} \cdot \frac{1}{4 \cdot \pi \cdot k} \cdot E^2$$

Az elektromos mező energiasűrűsége a térerősség négyzetével arányos.

Vezetők elektrosztatikus mezőben

a) A megosztás jelensége



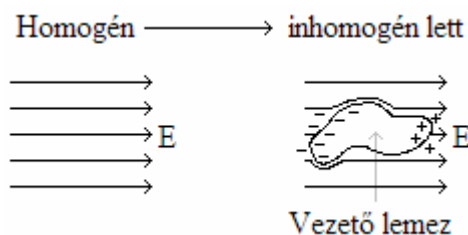
- Ha két elektroszkópot egy vezető rúddal kötünk össze, akkor az elektroszkóp nem jelez töltést.
- Ha a rendszer közelébe egy bőrrel megdörzsölt üvegrudat helyezünk, akkor mindkét elektroszkóp töltést fog jelezni.

• A jelenség azzal magyarázható, hogy az üvegrúd által létrehozott elektromos mező kölcsönhatásba lép a vezetőrúdban lévő töltésekkel. Ennek köszönhetően az egyik elektroszkóp negatív a másik pozitív töltéstöbbletet jelez. A jelenség neve: elektromos megosztás.

Elektromos megosztásról akkor beszélünk, ha külső elektromos mező hatására egy vezetőben töltésszétválasztódás jön létre.

b) A megosztás következményei

Az elektromos megosztás során a töltésszétválasztódás addig tart, amíg a vezető belsejében a külső és a belső mezőből származó elektromos térerősség nulla nem lesz.

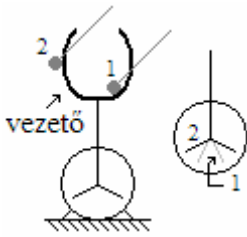


Vezető belsejében az elektromos térerősség mindig nulla.

Azáltal hogy egy vezetőt elektrosztatikus mezőbe helyezünk a következő változások figyelhetők meg:

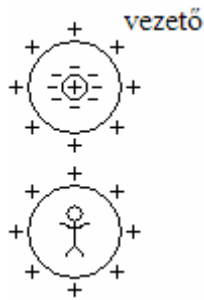
1. Létrejön az elektromos megosztás.
2. Megváltozik az elektromos mező szerkezete.
3. A térerősségvonalak a vezetőn merőlegesen végződnek és merőlegesen lépnek ki.
4. A töltésszétválasztódás ellenére a vezető felülete ekvipotenciális.

Többlettöltés a vezető felületén



- A kehely alakú vezetőn Q többlettöltés van.
- Ennek a többlettöltésnek a segítségével próbálunk egy elektroszkópot feltölteni.
- *Ha a szigetelő nyélen lévő vezető gömböt a kehely külső felületéhez érintjük, majd az elektroszkóphoz, akkor az elektroszkóp feltöltődik.*
- *Ha a vezetőgömböt a kehely belső felületéhez érintjük, akkor nem tudunk többlettöltést levenni.*

A többlettöltés mindig a vezető külső felületén jelenik meg.

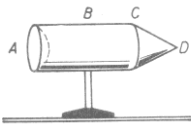


(középen lyuk, oda juttatjuk a többlettöltést)

Ha egy vezetőnek a belsejébe többlettöltést juttatunk, az elektromos megosztás miatt ez a többlettöltés a vezető felületén jelenik meg. **A vezető belsejében sem többlettöltés, sem elektromos mező nem lehet.**

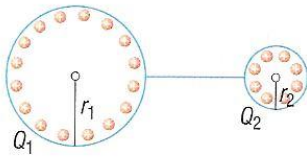
Erre jött rá **Faraday**, amikor sűrű fémhálóval „burkolt” körül egy embert, és a fémhálót elektrosztatikusan feltöltötte. Az embernek semmi baja nem esett.

Elektromos térerősség a vezető környezetében



töltéssűrűség.

Ha egy vezető felületére Q töltést viszünk, akkor a töltéseloszlás nem lesz egyenletes. A töltések úgy fognak eloszlani, hogy a vezető felülete ekvipotenciális legyen. A rajzon látható vezetónél a D pontban lesz a legnagyobb a



Minden felület egy-egy gömbbel közelíthető (egy sík felületet végtelen nagy sugarú gömbbel tudunk helyettesíteni). Vizsgáljuk meg azt az esetet, amikor egy r_1 és egy r_2 sugarú vezetőgömböt vezetővel kötünk össze, és a felületükre Q töltést viszünk.

Ezek a töltések úgy oszlanak el, hogy a két gömb felülete ekvipotenciális felület legyen.

Ebből következik, hogy a töltések aránya megegyezik a gömbök sugarainak arányával.

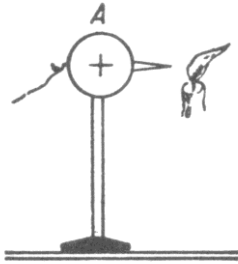
$$U_1 = U_2$$
$$k \cdot \frac{Q_1}{r_1} = k \cdot \frac{Q_2}{r_2}$$
$$\frac{Q_1}{Q_2} = \frac{r_1}{r_2}$$

A két arányból levezethető, hogy minél kisebb egy vezető görbületi sugara (annak a képzeletbeli gömbnek a sugara, amivel közelíteni lehet a felületet), annál nagyobb a környezetében a térerősség.

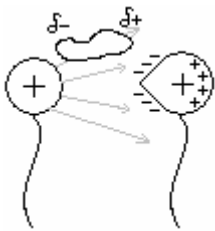
$$E_1 \cdot r_1 = E_2 \cdot r_2$$

Elektromosság:

Feltöltünk egy csúccsal ellátott vezető gömböt. A csúcs környezetében kialakuló nagy térerősség a levegő molekuláit polarizálja. A molekulák így nekicsapódnak a csúcshoz, és attól töltést vesznek át. A csúcs az azonos töltésű molekulákat óriási kezdősebességgel taszítja el. (mert a csúcshoz nagy a térerősség).

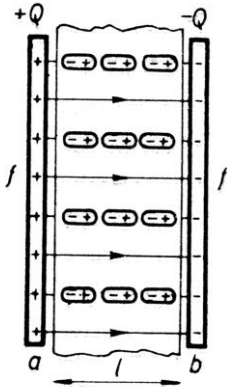


Ha egy csúccsal ellátott vezető gömbnek pozitív töltést adunk, akkor hamarosan a környezetében lévő másik vezetőgömbnek is pozitív lesz a töltése.



Elektromos megosztás miatt a csúcshoz negatív lesz a töltése, és nagy lesz a környezetében a térerősség. A csúchoz csapódó molekulák elviszik ezt a negatív töltést, így a csúccsal ellátott gömb pozitív töltésűvé válik.

Szigetelők elektrosztatikus mezőben



Egy kondenzátor fegyverzetei között homogén elektrosztatikus mező van. Ha a fegyverzetek közé szigetelőt helyezünk, akkor az elektromos mező polarizálja a szigetelőben lévő molekulákat. Úgynevezett **polárlán**cok alakulnak ki a szigetelőben. Ezáltal a fegyverzetek között a térerősség csökken, mivel a térerősség vonalak egy része a polárláncon végződik, illetve onnan indul ki. Így nő a kondenzátor kapacitása.

A relatív dielektromos állandó a viszonzyszám, amely megmutatja, hogy az adott szigetelő jelenlétében hány-szorosára nő egy kondenzátor kapacitása a vákuumbeli értékhez képest. Ez az anyagi minőségre jellemző érték.

Fizikatörténeti vonatkozások

Charles Augustin de Coulomb (1736-1806)



- Leginkább a róla elnevezett törvény megalkotásáról nevezetes. A törvény szerint két elektromos töltés közti erő arányos a töltések szorzatával, és fordítottan arányos a köztük lévő távolság négyzetével.
- Coulomb az angol Joseph Priestley elektromos taszítási törvényét vizsgálva jutott el saját törvényének megfogalmazásához. Az elektromos erők mérésére érzékeny eszközt fejlesztett ki; 1785-89-ben tette közzé eredményeit. Az elektromos töltés egysége az ő tiszteletére kapta a coulomb nevet.
- Gépek súrlódását, szélmalomokat, fém- és selyemszálak rugalmasságát is vizsgálta.

Benjamin Franklin (1706-1790)



- Amerikai könyvkiadó, természettudós és politikus.
- Ő találta fel a villámhárítót, saját életét kockáztatta híres sárkánykísérletével, hogy a villám elektromos természetét bebizonyítsa. A villám és az elektromos szikra azonosságát ezzel a kísérlettel igazolta.
- Franklin vezetett be számos fogalmat, amelyet ma is használnak az elektromosság leírásában (pozitív, negatív, vezető, áramforrás).
- Tőle származik a leydeni palack működésének első magyarázata. 1750-ben készítette a leydeni palack mintájára a Franklin-táblát, lényegében az első lemezes kondenzátort.
- A bifokális szemüveglencse feltalálása is az ő nevéhez kötődik.

Alessandro Volta (1745-1827)



Olasz természettudós.

Élete nagy részét a fémek elektromos tulajdonságainak kutatásával töltötte. Ő találta fel a róla elnevezett Volta-oszlopot, amely lényegében egy galvánelem. Sok szellemes készülék feltalálója volt. Kifejlesztett egy nagyon érzékeny feszültségmérő műszert is. Tiszteletére a feszültség mértékegységét róla nevezték el.